

# ZESTAW EGZAMINACYJNY GEOGRAFIA

## II ETAP EDUKACYJNY SZKOŁA PODSTAWOWA Klasa VII

---

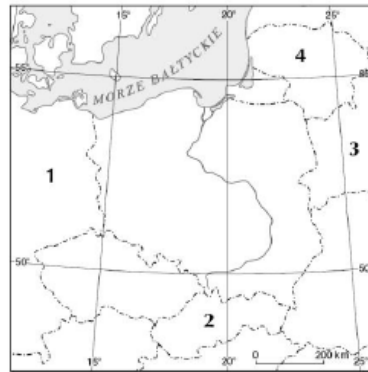
imię i nazwisko ucznia

---

dzień - miesiąc - rok  
przeprowadzenia egzaminu

1. Na podstawie poniższej mapy konturowej uzupełnij tabelę, wpisując nazwy państw zaznaczonych na mapie numerami. Następnie dopisz nazwy stolic tych państw. (0–4 p.)

Nr	Państwo	Stolica
1		
2		
3		
4		



2. Uzupełnij zdania prawidłowymi informacjami. (0–2 p.)  
 Sudety są górami typu ..... Zostały sfałdowane i wypiętrzone w orogenezach kaledońskiej i ..... Ponowne wypiętrzenie Sudetów nastąpiło podczas orogenezy ..... Najstarszymi skałami budującymi pasma sudeckie są ..... prekambryjskie.

3. Zaznacz dwie cechy krajobrazu polodowcowego. (0–2 p.)  
 a) Liczne jeziora rynnowe, morenowe i wytopiskowe.  
 b) Zdenudowane wzniesienia morenowe.  
 c) Brak wyraźnych form polodowcowych.  
 d) Dobrze zachowane, liczne formy polodowcowe.

4. Podkreśl nazwy gleb astrefowych. (0–2 p.)  
*mady, bielcowe, płowe, czarnoziemy, górskie, bagienne*

5. Podaj nazwy pasów ukształtowania rzeźby terenu zaznaczonych na mapie literami. (0–3 p.)

- A. ....
- B. ....
- C. ....



6. Podkreśl prawidłowe informacje w poniższym zdaniu. (0–3 p.)

Niewielkie zasolenie wód Bałtyku jest spowodowane *małym / dużym* parowaniem, *utrudnioną / łatwą* wymianą wód z innymi morzami oraz *małą / dużą* dostawą wód słodkich.

7. Zaznacz trzy cechy powietrza polarnego morskigo. (0–2 p.)  
 a) Powietrze, które napływa nad Polskę najczęściej.  
 b) Suche, gorące powietrze napływające nad Polskę niezwykle rzadko.  
 c) Latem powoduje ochłodzenie, wzrost zachmurzenia i opady.  
 d) Napływa sporadycznie, najczęściej wiosną i jesienią, powodując ochłodzenie oraz przymrozki.  
 e) Zimą powoduje ocieplenie i opady deszczu lub śniegu.

8. Uzupełnij tabelę właściwymi informacjami.

(0–3 p.)

*morenowe, przybrzeżne, rynnowe, deltowe, Jeziorak, Śniardwy, Druzno, Sarbsko*

Typ jeziora	Opis jeziora	Przykład
	jeziora powstałe u ujścia rzek w wyniku odcięcia dawnej zatoki morskiej przez nanoszone osady rzeczne	
	niezbyt głębokie jeziora o dużej powierzchni i urozmaiconej linii brzegowej	
	podłużne, głębokie jeziora powstałe w wyniku erozyjnej działalności wód płynących pod lądolodem	

9. Na mapie oznaczono cyframi wybrane rzeki. Zaznacz zestaw, w którym podano ich nazwy zgodnie z oznaczeniem na mapie.  
(0–1 p.)



- a) A. Nysa Łużycka, B. Warta, C. Narew, D. San.
- b) A. Odra, B. Warta, C. Bug, D. Dunajec.
- c) A. Drwęca, B. Noteć, C. Bóbr, D. Nysa Łużycka.

10. Wpisz obok zdania prawdziwego literę P, a obok fałszywego – literę F.  
(0–4p.)

- a) Dominującymi gatunkami drzew w Polsce są świerk i dąb. ....
- b) Monokultura polega na długotrwałej uprawie jednego gatunku roślin na tym samym obszarze. ....
- c) Bór to kompleks leśny, w którym dominują drzewa liściaste. ....
- d) Lesistość Polski wynosi około 49%. ....
- e) Do największych wolno żyjących zwierząt w Polsce należą żubry, łosie i niedźwiedzie brunatne. ....

11. Podaj nazwy województw zaznaczonych na mapie literami.

(0–3 p.)

- A. ....
- B. ....
- C. ....
- D. ....
- E. ....
- F. ....



12. Oblicz współczynnik przyrostu naturalnego w województwie mazowieckim w 2009 r., wiedząc, że w tym czasie urodziło się 59,8 tys. ludzi, a zmarło 54,6 tys. ludzi. Liczba ludności tego województwa wynosiła wówczas 5,22 mln osób. (0-2 p.)

Obliczenia: .....

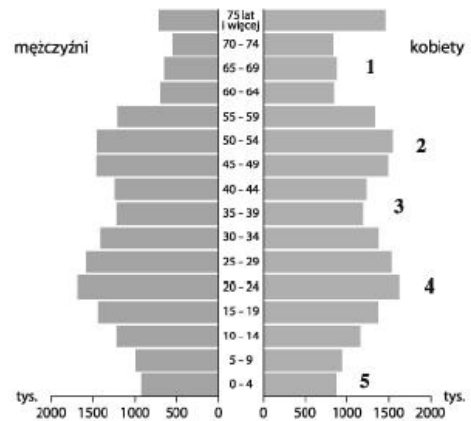
.....

Odpowiedź: .....

13. Na podstawie piramidy płci i wieku podkreśl prawidłowe informacje w poniższych zdaniach.

(0-3 p.)

- Wybrzuszenie oznaczone cyfrą 2 to wyż / niż demograficzny spowodowany małą / dużą liczbą urodzeń po zakończeniu II wojny światowej.
- Wcięcie oznaczone cyfrą 5 to wyż / niż demograficzny będący wynikiem m.in. upowszechniania się modelu rodziny 2+3 / 2+1.
- Wśród ludności powyżej 44 roku życia występuje nadwyżka liczby kobiet / mężczyzn nad liczbą mężczyzn / kobiet.



14. Podkreśl nazwy społeczności etnicznych zamieszkujących Polskę. (0-1 p.)

*Niemcy, Ukraińcy, Kaszubi, Łowiczanie, Słowacy, Ormianie*

15. Wyjaśnij znaczenie terminu „urbanizacja”. (0-1 p.)

.....

16. Zaznacz poprawne dokończenie zdania. (0-1p.)

*Aglomeracja policentryczna to...*

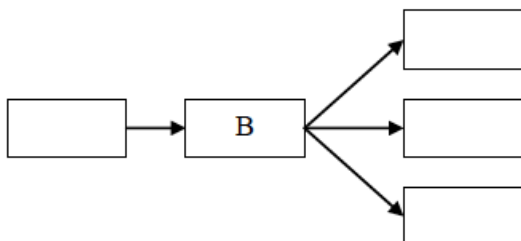
- skupisko miast, w których silnie rozwinął się przemysł.
- zespół miast, z których żadne nie pełni dominującej funkcji.
- zespół miast, w którym wokół jednego głównego ośrodka skoncentrowane są mniejsze miejscowości.

17. Połącz nazwy miast z dominującymi funkcjami pełnionymi przez te miasta. (0–2 p.)

- |                  |                          |
|------------------|--------------------------|
| Warszawa •       | •funkcja przemysłowa     |
| Gliwice •        | •funkcja administracyjna |
| Duszniki-Zdrój • | •funkcja uzdrowskowa     |
|                  | •funkcja religijna       |

18. Uzupełnij poniższy schemat tak, aby przedstawiał przyczyny i skutki migracji zarobkowych. (0–2 p.)

- A. Poprawa sytuacji materialnej Polaków.
- B. Wyjazdy Polaków za granicę w celach zarobkowych.
- C. Wzrost liczby tzw. eurosierot.
- D. Otwarcie rynków pracy dla Polaków przez niektóre państwa Unii Europejskiej.
- E. Wzrost zapotrzebowania w Polsce na osoby wykonujące takie zawody, jak hydraulik, kelner czy budowlaniec.



19. Zaznacz przyrodnicze czynniki rozwoju rolnictwa. (0–3 p.)

- a) Forma własności i wielkość gospodarstw.
- b) Polityka rolna państwa.
- c) Warunki glebowe.
- d) Poziom mechanizacji i chemizacji rolnictwa.
- e) Ukształtowanie powierzchni.
- f) Warunki klimatyczne.

20. Zaznacz prawidłowe dokończenie zdania. (0–1 p.)

Największą powierzchnię upraw w Polsce zajmuje...

- a) pszenżyto.
- b) żyto.
- c) pszenica.
- d) owies.

21 Podkreśl prawidłowe informacje w poniższych zdaniach. (0–3 p.)

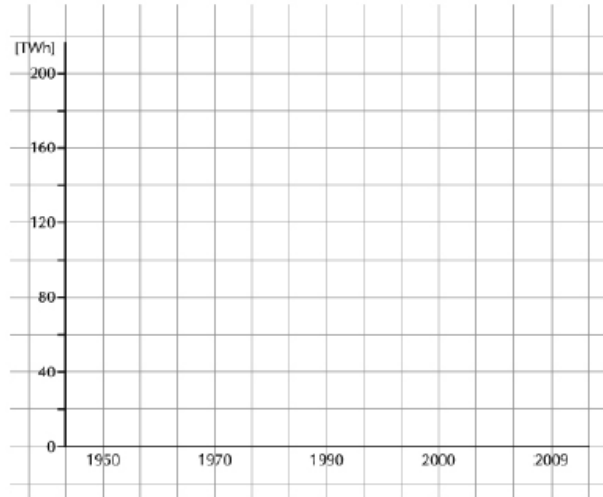
- a) Pogłowię trzody chlewnej w Polsce w ostatnich latach *wzrosło* / *zmalalo*.
- b) W Polsce większe znaczenie ma hodowla bydła prowadzona w kierunku *mięsnym* / *mlecznym*.
- c) Największe obszary w Polsce zajmuje uprawa *ziemniaków* / *zbóż*.

22. Na podstawie danych zawartych w tabeli wykonaj polecenia.

(0–2p.)

a) Sporządź diagram słupkowy przedstawiający produkcję energii elektrycznej w Polsce w latach 1950–2009.

Rok	Produkcja energii elektrycznej (w TWh)
1950	9
1970	65
1990	136
2000	145
2009	152



23. Zaznacz prawidłowe dokończenie zdania.

(0–1p.)

Największa farma wiatrowa znajduje się w...

- a) Mszczonowie.      b) Margoninie.      c) Pyrzycach.      d) Żydowie.

24. Wyjaśnij znaczenie terminu „obsada”.

(0–1 p.)

.....  
.....

25. Na podstawie poniższej mapy wykonaj polecenia.

(0–4p.)



a) Podaj nazwy elektrowni zaznaczonych na mapie cyframi.

1. ....

2. ....

3. ....

b) Podkreśl typ elektrowni, do którego należą elektrownie zaznaczone na mapie.

*elektrownie ciepłone zasilane węglem kamiennym, elektrownie ciepłone zasilane węglem brunatnym, elektrownie wodne*

26. Wyjaśnij znaczenie terminu „obsada”.

(0–1 p.)

.....  
.....

27. Podkreśl usługi osobiste.

(0–1 p.)

*komunikacja, marketing, obrona narodowa, edukacja, naprawy, ubezpieczenia*

28. Podkreśl prawidłowe informacje w poniższych zdaniach.

(0–3 p.)

a) Główną drogą wodną w Polsce jest **Wisła / Odra**.

b) Najlepszy dostęp do sieci internetowej w Polsce jest w województwie **wielkopolskim / świętokrzyskim**.

c) W 2008 r. najwięcej turystów zagranicznych przyjechało do Polski z **Niemiec / Rosji**.

29. Połącz nazwy portów lotniczych z odpowiednimi nazwami miast.

(0–3 p.)

Pyrzowice •	• Warszawa
Starachowice •	• Katowice
Jasionka •	• Rzeszów
	• Wrocław

30. Podkreśl nazwę miasta, którego Starówka została wpisana na Listę światowego dziedzictwa kulturalnego i przyrodniczego UNESCO.

(0–1 p.)

a) Łódź.	b) Zamość.
c) Lublin.	d) Oświęcim

31. Na mapie Polski zaznaczono wybrane parki narodowe. Wpisz nazwy tych parków obok odpowiednich liter. (0–4 p.)

- A.....
- B.....
- C.....
- D.....

