

ZESTAW EGZAMINACYJNY EDUKACJA Wczesnoszkolna

I ETAP EDUKACYJNY SZKOŁA PODSTAWOWA Klasa I

.....


imię i nazwisko ucznia

.....

dzień - miesiąc - rok

przeprowadzenia egzaminu

1. Spójrz na zdjęcie. Z wyrazów podanych poniżej zamaluj te, które nazywają to, co widzisz na zdjęciu:



drzewo	traktor	kot	droga	las
książka	samolot	chmury	bocian	dom
niebo	żyrafa	słońce	statek	sklep

Wypisz te wyrazy, które są zamalowane i policz, ile mają liter:

.....

.....

.....

.....

.....

.....

.....

.....

.....

.....

.....

.....

A teraz podziel niepokolorowane wyrazy na sylaby. Zapisz przy każdym, ile mają sylab.

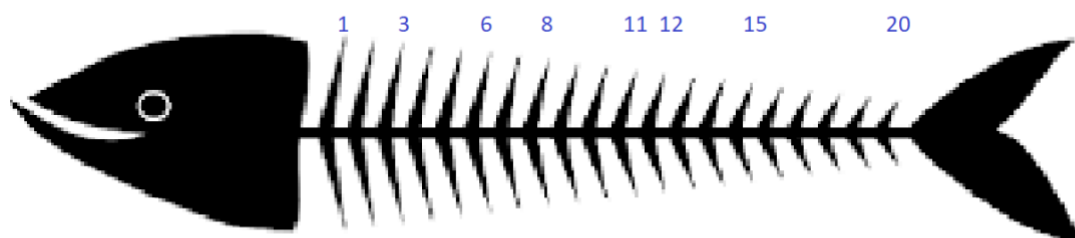
2. Z rozsypanek literowych ułóż wyrazy. Zapisz je.

t o a l	
k e d m o	
m u c h y r	
t o s m a o l	

3. Uporządkuj nazwy miesięcy, wpisując przy każdym odpowiednią liczbę:

listopad	marzec	czerwiec	wrzesień	luty	październik
styczeń	maj	sierpień	kwiecień	lipiec	grudzień

4. Uzupełnij oś liczbową:



5. Oblicz:

$2+5=$

$6-3=$

$4+6=$

$8-5=$

$7+5=$

$10-8=$

$8+8=$

$12-2=$

$12+4=$

$14-7=$

$19+1=$

$20-10=$

$17+2=$


$16-9=$

$13+3+2=$

$18-2-4=$

6. Rozwiąż zadania, zapisz obliczenia i odpowiedź.

Franek i Robert postanowili wspólnie zbierać żołądź. Po drodze z basenu, Franek znalazł 4 żołądź, a Robert 7 żołądź. Ile żołądź mają razem?



Odpowiedź:.....

Kasia przyniosła chłopcom jeszcze 8 żołądzi. Razem robili z nich ludziki, do których zużyli 12 żołądzi. Ile im zostało?



Odpowiedź:.....